

Himmelsrichtungen

1. Schreibe zu den Pfeilen in Abb.1, in welche Himmelsrichtung sie zeigen!
(N ist oben!)

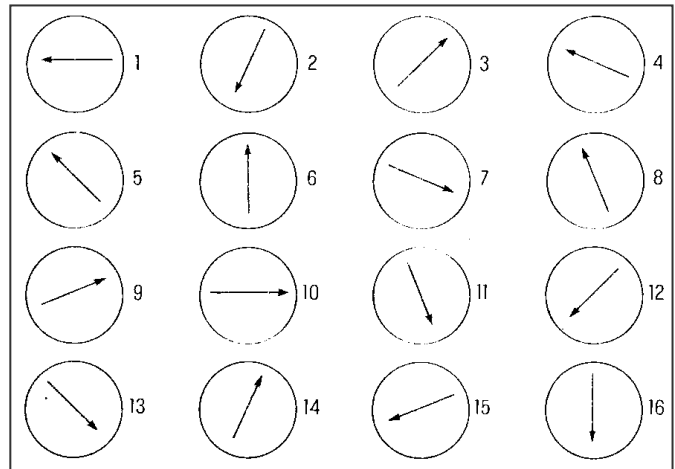


Abb.1

2. Schreibe zu jedem Haus (1-6) in Abb.2, in welcher Richtung deren Bewohner den Turm sehen!

Von welchem Haus aus sieht man mittags hinter dem Turm die Sonne am Himmel?

Vom Haus _____ aus.

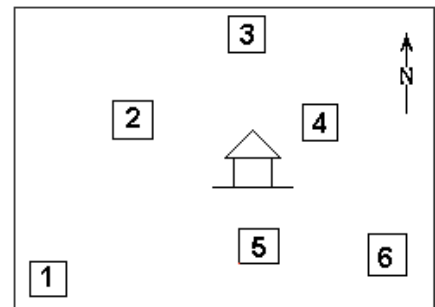


Abb.2

3. Trage jeweils die genau dazwischen liegenden Himmelsrichtungen ein!

O	_____	S
W	_____	S
NO	_____	SO
SW	_____	NW
N	_____	NO

4. Der Wanderer in Abb.3 geht vom Ort A über B nach C. In welcher Himmelsrichtung sieht er jeweils den Baum?

Von A aus: Im _____
 Von B aus: Im _____
 Von C aus: Im _____

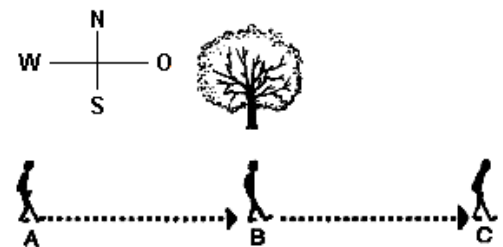


Abb.3